

Tafel van 4



4

8

12

16

20



24

28

32

36

40

4 >> 8 >> 12 >> 16 >> 20 >> 24 >> 28 >> 32 >> 36 >> 40

Er zijn 4 stickers in iedere rij

(a) Hoeveel stickers zijn er in 3 rijen?

$$3 \times 4 = 12$$

Er zijn 12 stickers in 3 rijen.

Tel in stapjes van 4:
4, 8, 12



(b) Hoeveel stickers zijn er in 7 rijen?

$$7 \times 4 = \square$$

Er zijn stickers in 7 rijen.

Tel in stapjes van 4:
4, 8, 12, 16, 20, 24, 28



(c) Hoeveel stickers zijn er in 6 rijen?

$$6 \times 4 = \square$$

Er zijn stickers in 6 rijen.

(d) Hoeveel stickers zijn er in 4 rijen?

$$4 \times 4 = \square$$

Er zijn stickers in 4 rijen.

(e) Hoeveel stickers zijn er in 8 rijen?

$$8 \times 4 = \square$$

Er zijn stickers in 8 rijen.




Kan jij ook terugtellen?


Vul de sommen aan:




$$1 \times 4 = 4$$




$$2 \times 4 = 8$$




$$\square \times 4 = 12$$



$$\square \times 4 = \square$$



$$\square \times \square = \square$$

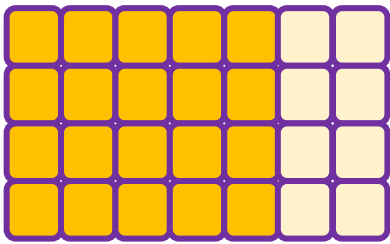


6 x 4 is 4 meer dan 20.



$$5 \times 4 = 20$$

$$6 \times 4 = \square$$



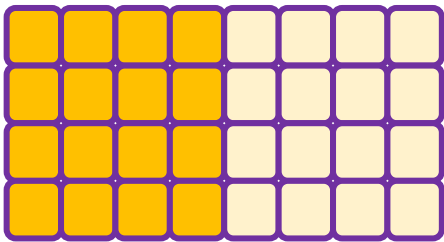
7 x 4 is 8 meer dan 20.

$$7 \times 4 = 20 + 8$$



$$5 \times 4 = 20$$

$$7 \times 4 = \square$$




8 x 4 is tweemaal 4 x 4

$$8 \times 4 = 16 + 16$$




$$4 \times 4 = 16$$

$$8 \times 4 = \square$$



$$5 \times 4 = 20$$

$$9 \times 4 = \square$$



$$5 \times 4 = \square$$

$$10 \times 4 = \square$$

Vul in:

$1 \times 4 =$

$2 \times 4 =$

$3 \times 4 =$

$4 \times 4 =$

$5 \times 4 =$

$6 \times 4 =$

$7 \times 4 =$

$8 \times 4 =$

$9 \times 4 =$

$10 \times 4 =$

$4 \times 1 =$

$4 \times 2 =$

$4 \times 3 =$

$4 \times 4 =$

$4 \times 5 =$

$4 \times 6 =$

$4 \times 7 =$

$4 \times 8 =$

$4 \times 9 =$

$4 \times 10 =$

Verhaaltjessommen

Gebruik het 'stappenplan verhaaltjessommen oplossen'

- a) Er zijn 6 schalen met 4 appels op elke schaal.
Hoeveel appels zijn er?

$$6 \times 4 = \square$$

Er zijn in totaal appels.



- b) In één taxi passen 4 passagiers.
Hoeveel passagiers passen er in 5 taxi's?

$$5 \times 4 = \square$$

In 5 taxi's passen passagiers.



- c) 6 kinderen gaan naar de bibliotheek.
Ieder kind leent 4 boeken.
Hoeveel boeken lenen de kinderen samen?
Samen lenen de kinderen boeken.



- d) Mevrouw Deftig maakt 4 kussenslopen.
Voor elke kussensloop gebruikt ze 2 m stof.
Hoeveel meter stof gebruikt ze in totaal?
Ze gebruikt in totaal m stof.



- e) Matthijs koopt 7 pakjes batterijen.
In elk pakje zitten 4 batterijen.
Hoeveel batterijen koopt hij in totaal?
Matthijs koopt in totaal batterijen.

