






Werkblad Verdubbelen


- In het linkervak zie je een groepje. Teken rechts nog eenzelfde groepje.
- Hoeveel is het samen?
- Schrijf de som in het vak erboven.
- Welke vermenigvuldiging hoort erbij?


$3 + 3 = 6$ $2 \times 3 = 6$	
	


$4 + \square = \square$ $2 \times 4 = 8$	
	


$4 + \square = \square$ $2 \times 4 = \square$	
	


$5 + \square = \square$ $2 \times \square = \square$	
	


$\square + \square = \square$ $2 \times \square = \square$	
	


$\square + \square = \square$ $2 \times \square = \square$	
	

$\square + \square = \square$ $2 \times \square = \square$	
	

$\square + \square = \square$ $2 \times \square = \square$	
	

$\square + \square = \square$ $\square \times \square = \square$	
	

$\square + \square = \square$ $\square \times \square = \square$	
	

$\square + \square = \square$ $\square \times \square = \square$	
	

$\square + \square = \square$ $\square \times \square = \square$	
