




Werkblad Samenstellen

Opdracht:

- Kijk naar het voorbeeld. Hoe maak je de volgende getallen?
- Schrijf en vertel hoeveel biljetten en munten je nodig hebt om de getallen samen te stellen.
- Stel de getallen samen met biljetten en munten uit de kist.

			
	Honderden	Tienen	Eenen
110	1	1	0
111			
25			
200			
98			
138			
60			
12			
144			
84			
158			
34			
162			
187			
152			

- Stel de getallen samen met de

getalkaarten.

