












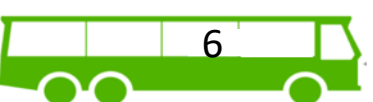
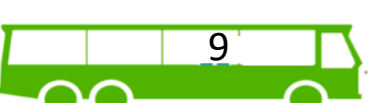





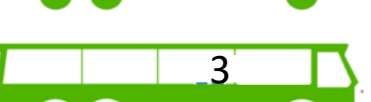



# Aanvullen t/m 10



Hoeveel mensen zijn er ingestapt bij de halte?

Maak gebruik van het 'stappenplan som oplossen' en vul in.

	→	<input type="text"/>	
	→	<input type="text"/>	
	→	<input type="text"/>	
	→	<input type="text"/>	
	→	<input type="text"/>	
	→	<input type="text"/>	
	→	<input type="text"/>	
	→	<input type="text"/>	
	→	<input type="text"/>	
	→	<input type="text"/>	











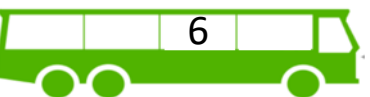
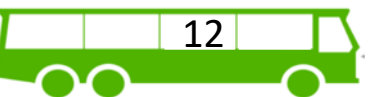

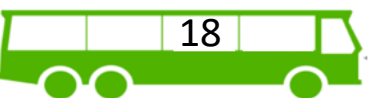







# Aanvullen t/m 20



Hoeveel mensen zijn er ingestapt bij de halte?

Maak gebruik van het 'stappenplan som oplossen' en vul in!

	→	<input type="text"/>	
	→	<input type="text"/>	
	→	<input type="text"/>	
	→	<input type="text"/>	
	→	<input type="text"/>	
	→	<input type="text"/>	
	→	<input type="text"/>	
	→	<input type="text"/>	
	→	<input type="text"/>	
	→	<input type="text"/>	